

## GUÍA PARA PREPARAR LA MATERIA PENDIENTE DE 1º DE ESO

Alumno/a..... Curso.....

- Los contenidos y sus estándares de evaluación correspondientes son los que se indican más abajo.
- En cada evaluación habrá un examen cuya fecha y lugar te será facilitada por tu profesor.
- El examen constará de una serie de preguntas que serán extraídas de las cuestiones de esta relación.
- Debes realizar las actividades y presentárselas a tu profesor.
- La nota será el examen (80%) y las actividades (20%)
- Si apruebas, habrás eliminado esa evaluación. Si suspendes, en la tercera evaluación podrás recuperar las evaluaciones que lleves suspensas.
- Cuando tengas dudas, pregunta al profesor que tienes este curso. Él te ayudará.

1

**GEOGRAFÍA**

1. Mapas físicos de todos los continentes (EUROPA, ASIA, ÁFRICA, AMÉRICA , OCEANÍA) y ESPAÑA. Páginas finales del libro de geografía . (*Estándares 1.2.1; 1.4.1; 1.7.1 y 1.11.1*).
2. Situar en un planisferio los principales meridianos y paralelos. Pág. 7. (*Estándar 1.1.3*) *Anexo-Actividad 1*
3. Localización de coordenadas geográficas en un mapa. Pág.12. (*Estándar 1.1.4*). *Anexo-Actividad 2*
4. Husos horarios. Pág.15. (*Estándar 1.1.2*) *Anexo-Actividad 3*
5. Estudiar los distintos tipos de climas y sus características para comentar un climograma. Págs. 82, 84 y 90 (*Estándar 1.11.2*). *Anexo-Actividad 4*
6. Situar en un mapamundi físico y definir : montaña, valle, llanura, meseta, golfo ,bahía, cabo, depresión, península, delta, río, acuífero y caudal. Págs. 26, 27 y 46 (*Estándar 1.2.1*) *Hay un mapamundi al final*.

**2ª EVALUACIÓN****HISTORIA**

7. Cálculo de siglos y años en números romanos. (*Estándar 2.3.1*).

**La Prehistoria:**

8. Ejes cronológicos de la Historia y la Prehistoria. Pág. 154 de libro de historia. (*Estándar 2.4.1 y 2.3.1*).
9. Prehistoria: evolución y homínidos. Págs. 156 y 157. Formas de vida, economía y sociedad en el Paleolítico, Neolítico y Edad de los Metales. Págs. 158, 159, 160, 161, 162 y 163. (*Estándares 2.1.1, 2.5.1, 2.6.1 y 2.7.1*).

**Primeras civilizaciones:**

10. Explica lo que es una civilización fluvial. Pág.178. (*Estándar 2.9.1*)
11. La escritura en Egipto y Mesopotamia. Pág. 179. (*Estándar 2.9.1 y 2.11.1*).
12. Mesopotamia: importancia del Código de Hammurabi. Pág.180. y el arte en Mesopotamia. Pág. 181 (*Estándares 2.9.1 ; 2.10.1 ; 2.11.1; 2.14.1*)
13. Egipto: Eje cronológico de Egipto. Pág. 176, pirámide social, religión, tipos de tumbas y el templo egipcio. Págs.182, 183, 186, 187, 188, 190 y 191. (*Estándares 2.9.1, 2.4.1, 2.13.1, 2.13.2, 2.12.2 y 2.14.1*).

3

**Grecia:**

14. Eje cronológico y explicar un poco las etapas. Pág.196. (*Estándar 2.4.1*)
15. Compara los sistemas políticos de Atenas Y Esparta. Pág. 200. (*Estándares 2.15.1, 2 y 2.16.1*)
16. La sociedad en Grecia. Pág.203. (*Estándares 2.15.1, 2.16.1 y 2.19.2*)

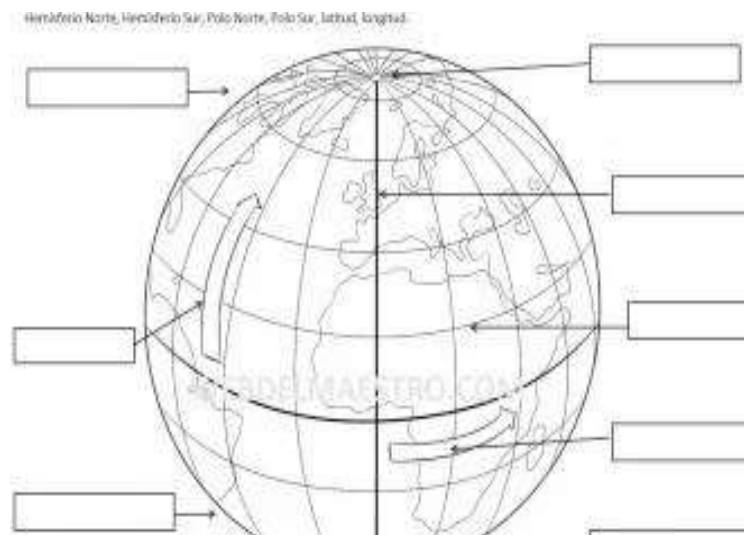
- 17. El medio físico en Grecia. Pág.198 (*Estándar 2.16.2*)
- 18. La importancia de Alejandro Magno. Págs.210 y 211 . (*Estándares 2.17.1, 2.17.2 y 2.18.1*)
- 19. Definiciones: Polis, Colonia, Democracia, Oligarquía, Ostracismo, Acrópolis, y Ágora. Págs. 198,200. (*Estándares 2.15.1, 2.16.1, 2.16.2 y 2.19.2*)
- 20. Arte: órdenes arquitectónicos . El templo griego y explicación de una escultura. Págs. 264, 265 y 268. (*Estándar 2.19.1*)

**Roma:**

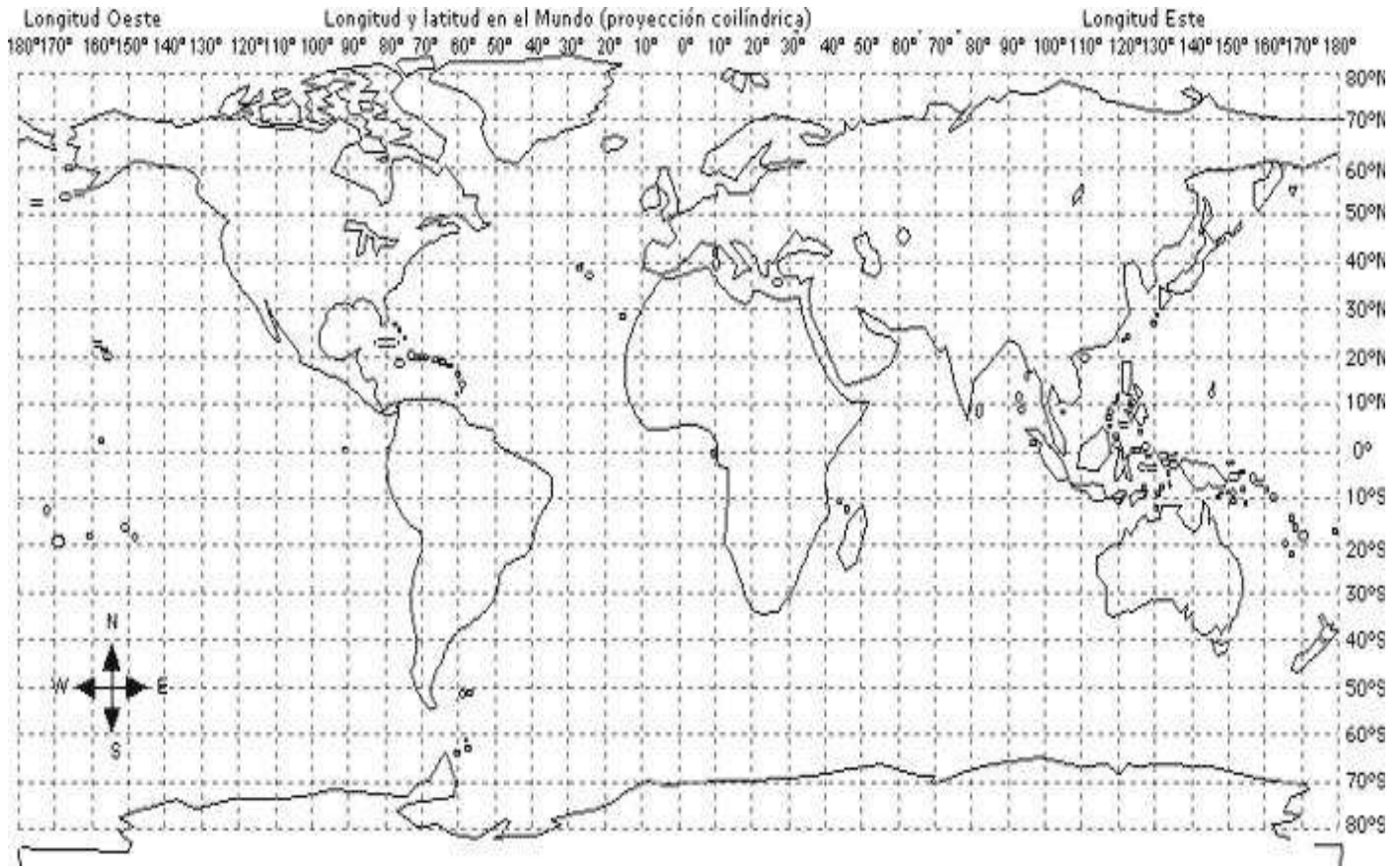
- 21. Eje cronológico con las distintas etapas de la historia de Roma. Pág.234. (*Estándares 2.4.1 y 2.20.1*)
- 22. Definiciones: patricio, plebeyo, República, Senado, liberto, cardo, decumano, domus, e insulae. Ejercicio 1 de la págs. 238, 239, 245, 246, 247. (*Estándar 2.20.2*)
- 23. Edificios romanos más importantes: acueducto, basílica, anfiteatro, circo, teatro, termas y arco de triunfo. Págs. 245, 266 y 267. (*Estándares 2. 21.1 y 2.22.2*)
- 24. La figura de Julio César. Ejercicio 14 de la págs. 240 y 241.( *Estándares 2. 24.1*).

**A**

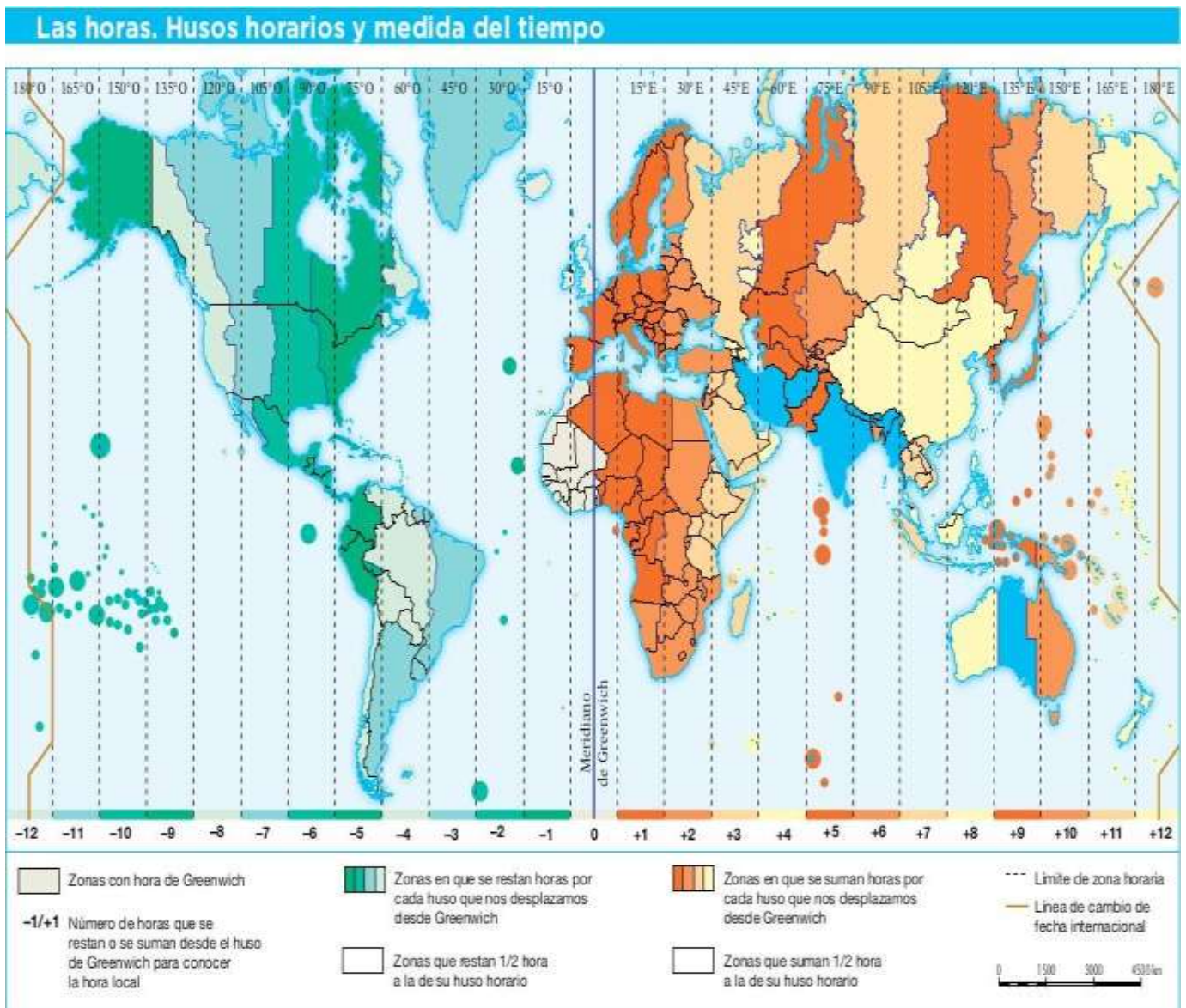
1º. Dibuja la esfera terrestre y sitúa en ella los nombres de los meridianos y paralelos principales.



2º. Sitúa los puntos del planeta que corresponden a las siguientes coordenadas: Punto A : 30° N y 40° O. Punto B : 10° S y 35° E. (REPASA CON UNA LÍNEA EL ECUADOR Y EL MERIDIANO DE GREENWICH).



3º. Si en Greenwich son las 8:00 h. ¿Qué hora será en los puntos marcados?





4º. Comenta el siguiente climograma:

- I. ¿Cómo se calcula la precipitación anual?
- II. ¿Cómo se calcula la temperatura media anual?
- III. ¿Qué meses la precipitación es escasea?
- IV. ¿Qué meses tienen la temperatura más elevada? ¿y la más baja?
- V. ¿Cómo son las lluvias, abundantes o escasas?
- VI. ¿Cómo son las temperaturas en verano? ¿y en invierno?
- VII. ¿De qué tipo de clima se trata? ¿Cómo lo has averiguado?

